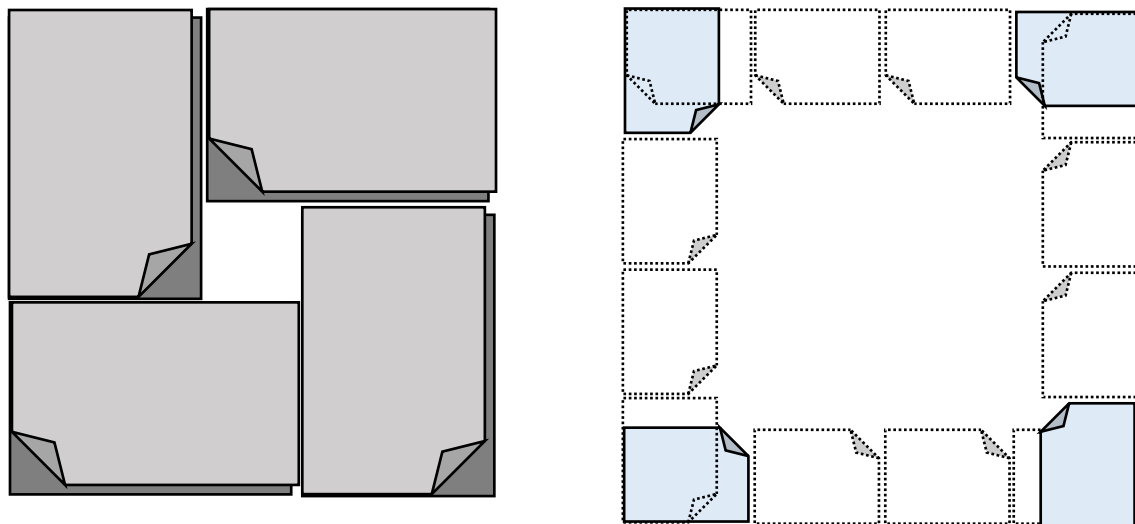


算数プリント

1 m³を体感してみよう。

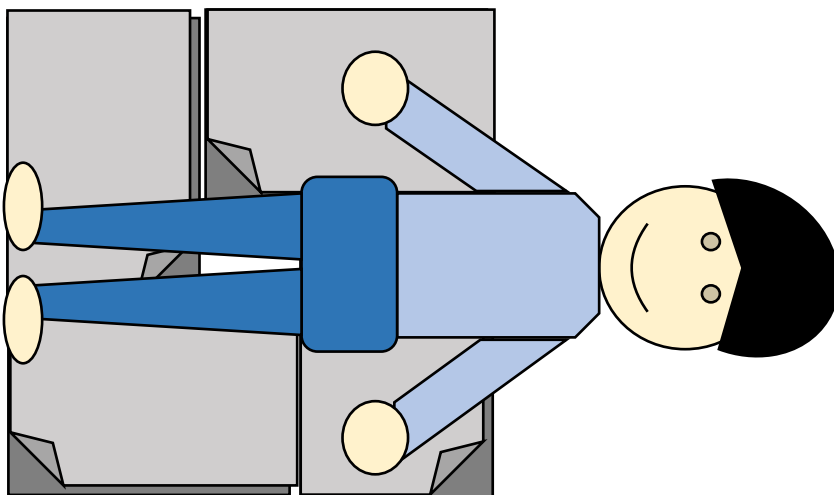
新聞紙または教科書（ノート）を図のように広げる。



およそ1 m²の広さになります。

できた正方形のはしに足をそろえて寝そべってみましょう。

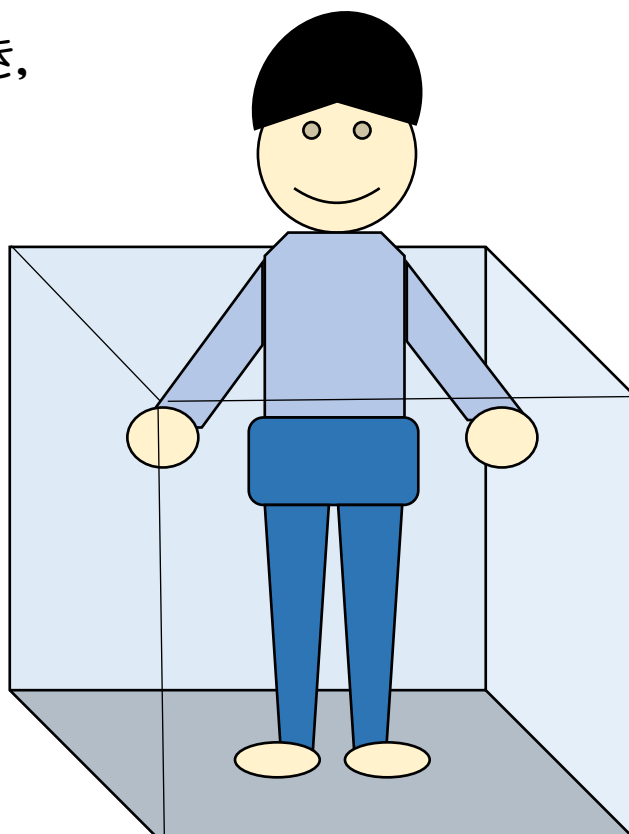
1 mはお腹のあたりかな？むねのあたりかな？



算数プリント

1 mの高さを覚えておき、
大きな段ボールの中に入っているイメージ
をもちましょう。

1 m³って
けっこう大きい！



牛乳パックは本当に1L？

教科書では、 $10 \times 10 \times 10 = 1000$ で、 1000cm^3 が1Lと学習しました。しかし、同じ1Lの牛乳パックを測ってみると…。

何 cm^3 になりましたか？ 1000cm^3 にはならないと思います。どうしてか、おうちの人と考えてみよう。