

3年1組 () 番

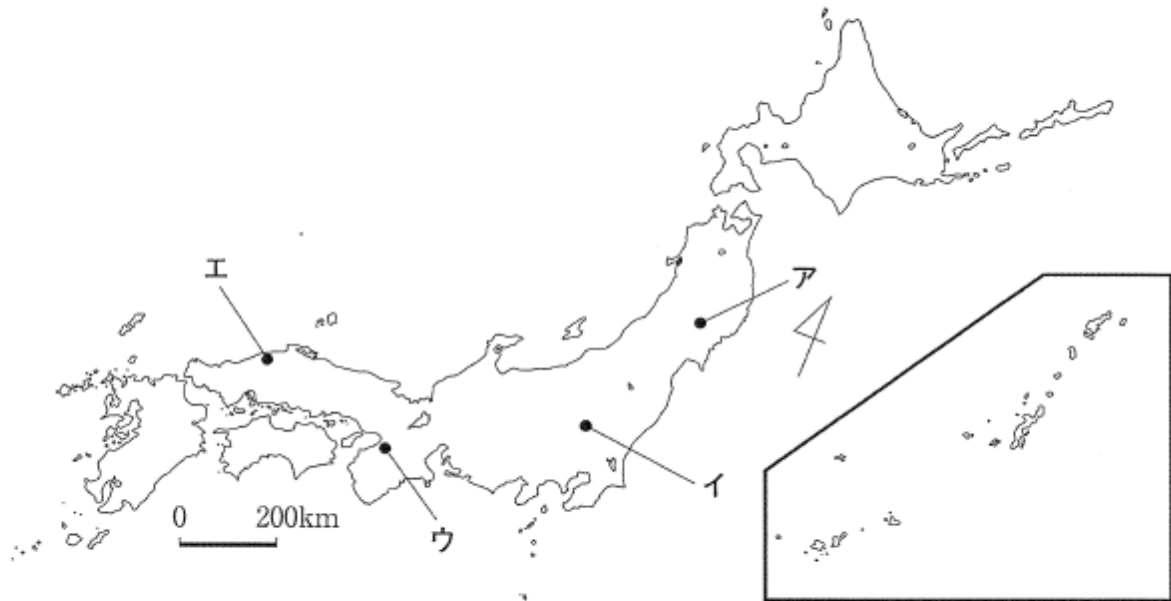
氏名 ()

3学年 社会 休校中の課題 9 小平作成

5月21日(木) オンライン授業で次の問題を一緒に考えます。

〔問2〕 次のⅠの略地図中のア～エは、世界遺産に登録されている我が国の主な歴史的文化財の所在地を示したものである。Ⅱの文で述べている歴史的文化財の所在地に当てはまるのは、略地図中のア～エのうちのどれか。

Ⅰ



Ⅱ

5世紀中頃に造られた、大王の墓おおきみと言われる日本最大の面積を誇る前方後円墳で、周囲には三重の堀が巡らされ、古墳の表面や頂上等からは、人や犬、馬などの形をした埴輪はにわが発見されており、2019年に世界遺産に登録された。

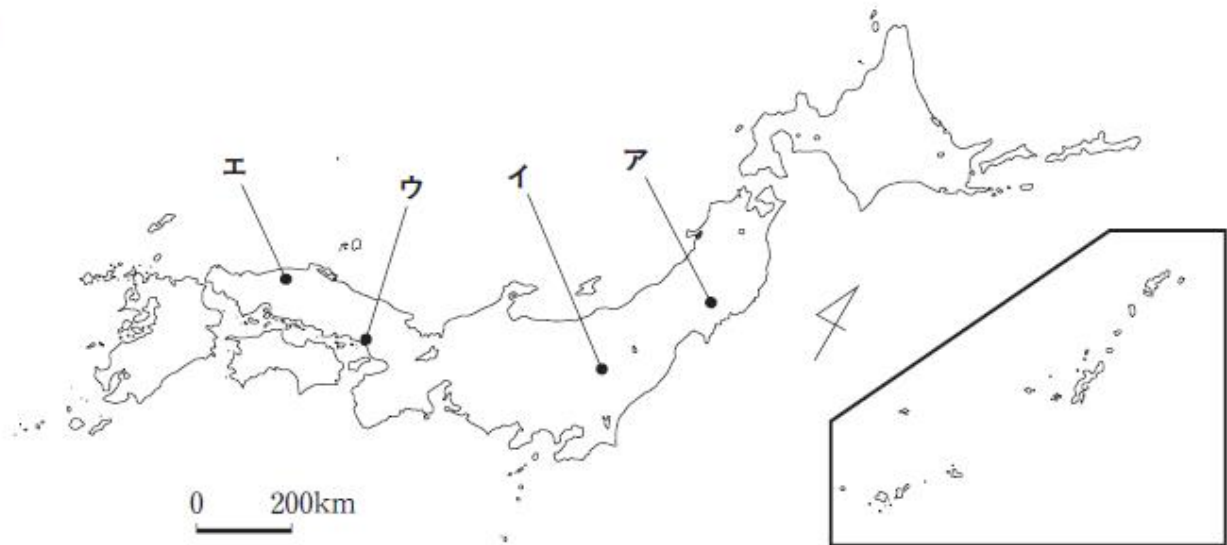
令和2年(2020)2月

https://www.kyoiku.metro.tokyo.lg.jp/admission/high_school/ability_test/problem_and_answer/files/release20200221_01/2sha_kensa.pdf

メモ

〔問2〕 次のⅠの略地図中のア～エは、世界遺産に登録されている我が国の主な歴史的文化財の所在地を示したものである。Ⅱの文章で述べている歴史的文化財の所在地に当てはまるのは、略地図中のア～エのうちのどれか。

Ⅰ



Ⅱ

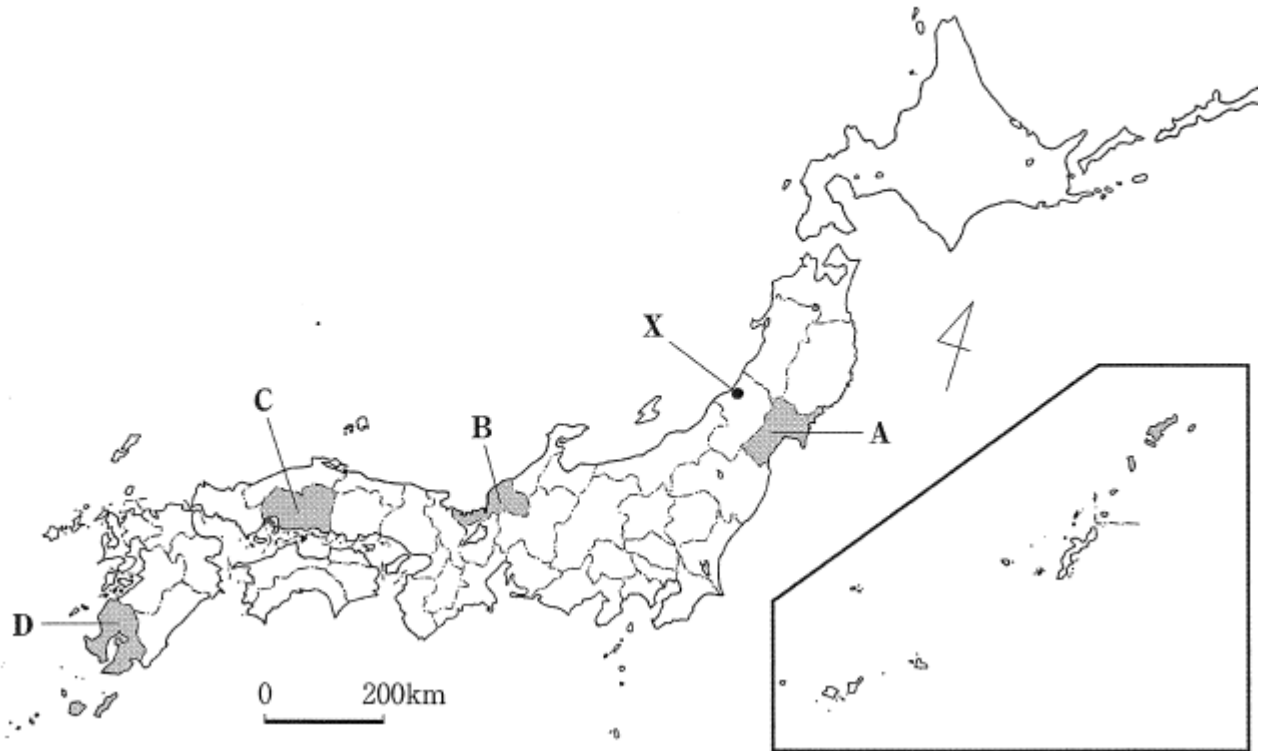
奥州藤原氏が、平安時代後期に起きた前九年合戦と後三年合戦で亡くなった人々を供養するために建立した寺院であり、2011年に世界遺産に登録された。この寺院の建物の一つに、内部が金で装飾された阿弥陀堂がある。

平成 29 年（2017） 2 月

https://www.kyoiku.metro.tokyo.lg.jp/admission/high_school/ability_test/problem_and_answer/files/release20170224_02/29sha-toi.pdf

メモ

3 次の略地図を見て、あとの各問に答えよ。



〔問1〕 次の表のア～エの文章は、略地図中に ■■■ で示した、A～Dのいずれかの県の、2017年における鉄道の営業距離、県庁所在地（市）の人口、鉄道と県庁所在地の交通機関などの様子についてまとめたものである。略地図中のA～Dのそれぞれの県に当てはまるのは、次の表のア～エのうちではどれか。

| | 営業距離(km) | 人口(万人) | 鉄道と県庁所在地の交通機関などの様子 |
|---|----------|--------|---|
| ア | 710 | | ○内陸部の山地では南北方向に、造船業や鉄鋼業が立地する沿岸部では東西方向に鉄道が走り、新幹線の路線には5駅が設置されている。 |
| | 119 | | ○この都市では、中心部には路面電車が見られ、1994年に開業した鉄道が北西の丘陵地に形成された住宅地と三角州上に発達した都心部とを結んでいる。 |
| イ | 295 | | ○リアス海岸が見られる地域や眼鏡産業が立地する平野を鉄道が走り、2022年には県庁所在地を通る新幹線の開業が予定されている。 |
| | 27 | | ○この都市では、郊外の駅に駐車場が整備され、自動車から鉄道に乗り換え通勤できる環境が整えられ、城下町であった都心部の混雑が緩和されている。 |
| ウ | 642 | | ○南北方向に走る鉄道と、西側に位置する山脈を越え隣県へつながる鉄道などがあり、1982年に開通した新幹線の路線には4駅が設置されている。 |
| | 109 | | ○この都市では、中心となるターミナル駅に郊外から地下鉄やバスが乗り入れ、周辺の道路には町を象徴する街路樹が植えられている。 |
| エ | 423 | | ○石油の備蓄基地が立地する西側の半島に鉄道が走り、2004年には北西から活動中の火山の対岸に位置する県庁所在地まで新幹線が開通した。 |
| | 61 | | ○この都市では、路面電車の軌道を芝生化し、緑豊かな環境が整備され、シラス台地に開発された住宅地と都心部は、バス路線で結ばれている。 |

〔データで見る県勢〕第27版などより作成

令和2年(2020)2月