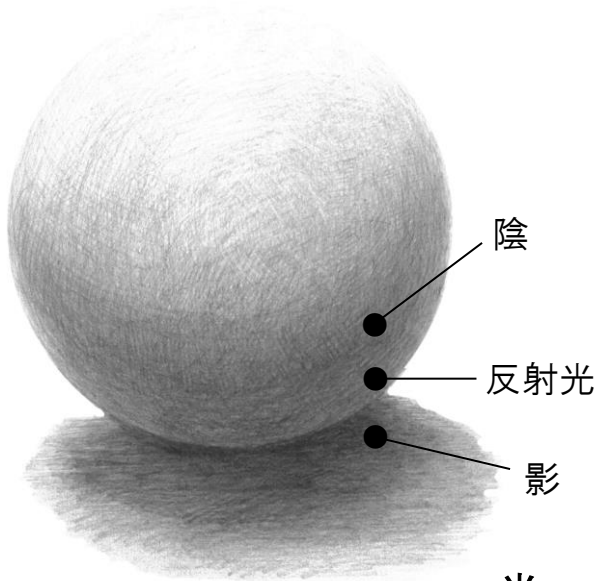


年	組	番
名		
前		


光

左斜め上からの光




- 左の図を参考に、鉛筆で陰影を描いて球体表現しましょう。
- 下の3つの球体に、それぞれの方向から光が当たっているととして、反対側の表面に「陰」、球体の置かれた面に「影」を描きましょう。
(反射光も意識しましょう)

左真横からの光



右斜め上からの光

光



光

真上からの光

