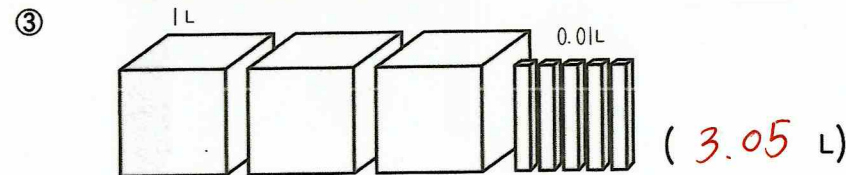
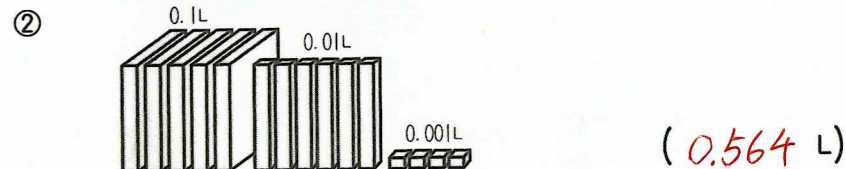
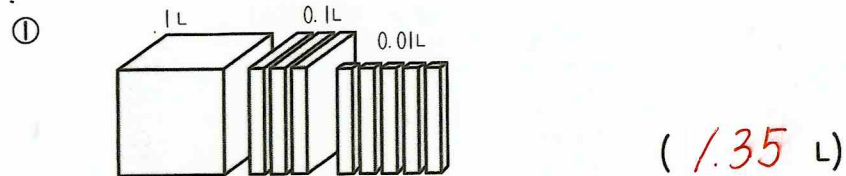


※ ノートにはりません。

小数と整数① 名前 答え



① 水のかさは何Lですか。




② 次の数を小数で書きましょう。

① 1を6こ, 0.1を2こ, 0.01を5こ, 0.001を8こ合わせた数。
(6.258)

② 1を1こ, 0.01を7こ合わせた数。
(1.07)

③ 10を3こ, 1を4こ, 0.1を1こ, 0.01を9こ, 0.001を5こ
合わせた数。
(34.195)

小数と整数② 名前



① 次の数を求めましょう。

- ① 1を 256こ あつめた数 (256)
- ② 0.1を 256こ あつめた数 (25.6)
- ③ 0.01を 256こ あつめた数 (2.56)
- ④ 0.001を 256こ あつめた数 (0.256)
- ⑤ 0.01を 10こ あつめた数 (0.1)
- ⑥ 0.01を 100こ あつめた数 (1)

② 次の数は, 0.01を何こあつめた数ですか。

- ① 0.03 ② 0.45 ③ 5.02 ④ 7.31 ⑤ 9.85
- (3)こ (45)こ (502)こ (731)こ (985)こ

③ 次の数は, 0.001を何こあつめた数ですか。

- ① 0.025 ② 0.186 ③ 0.079 ④ 0.01 ⑤ 1
- (25)こ (186)こ (79)こ (10)こ (1000)こ

④ 次の小数をあらわすめもりに↑をつけましょう。

