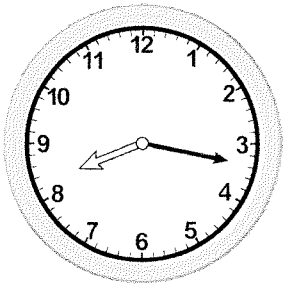



1年 7 (4)	とけい	___ねん ___くみ 名前
----------------	-----	-------------------

1 なんじ なんぷんですか。

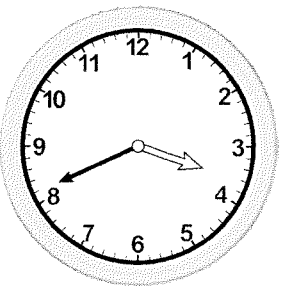
①



②

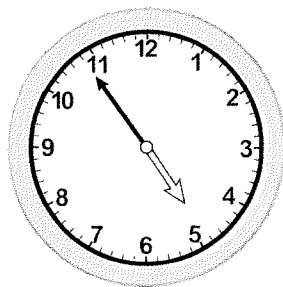


③




2 なんじ なんぷんですか。


①



②




③



1年 7 (4)	とけい	___ ねん ___ ぐみ 名前
----------------	-----	---------------------

1 なんじ なんぷんですか。

①




8じ17ふん

②



1じ23ふん


③



3じ41ふん


2 なんじ なんぷんですか。

①




4じ54ふん

②



11じ33ふん

③



7じ2ふん

1年 <b>2</b> (2)	たしざん	__ねん __くみ なまえ
-----------------------	------	------------------

たしざんを しましょう。

①  $7 + 7$

②  $8 + 5$

③  $9 + 4$

④  $6 + 8$

⑤  $5 + 6$

たしざんを しましょう。

⑥  $3 + 9$

⑦  $7 + 6$

⑧  $8 + 7$

⑨  $9 + 2$

⑩  $4 + 8$

くり<sup>あ</sup>上がりのれんしゅう (1)

①  $2 + 9$       ②  $3 + 8$       ③  $3 + 9$       ④  $4 + 7$       ⑤  $4 + 8$       ⑥  $4 + 9$

⑦  $5 + 6$       ⑧  $5 + 7$       ⑨  $5 + 8$       ⑩  $5 + 9$       ⑪  $6 + 5$       ⑫  $6 + 6$

⑬  $6 + 7$       ⑭  $6 + 8$       ⑮  $6 + 9$       ⑯  $7 + 4$       ⑰  $7 + 5$       ⑱  $7 + 6$

1年 <b>2</b> (4)	たしざん	__ねん __くみ なまえ
-----------------------	------	------------------

たしざんを しましょう。

①  $10 + 30$

②  $30 + 20$

③  $50 + 10$

④  $70 + 20$

⑤  $40 + 50$

たしざんを しましょう。

⑥  $50 + 50$

⑦  $70 + 30$

⑧  $20 + 80$

⑨  $100 + 0$

⑩  $0 + 100$

○+□=100の れんしゅう

①  $10 + 90$     ②  $20 + 80$     ③  $30 + 70$     ④  $40 + 60$

⑤  $50 + 50$     ⑥  $60 + 40$     ⑦  $70 + 30$     ⑧  $80 + 20$

⑨  $90 + 10$     ⑩  $100 + 0$     ⑪  $0 + 100$

1年 <b>2</b> (2)	たしざん	____ねん ____くみ なまえ
-----------------------	------	----------------------

<p>たしざんを しましょう。</p> <p>① <math>7 + 7 = 14</math></p> <p>② <math>8 + 5 = 13</math></p> <p>③ <math>9 + 4 = 13</math></p> <p>④ <math>6 + 8 = 14</math></p> <p>⑤ <math>5 + 6 = 11</math></p>	<p>たしざんを しましょう。</p> <p>⑥ <math>3 + 9 = 12</math></p> <p>⑦ <math>7 + 6 = 13</math></p> <p>⑧ <math>8 + 7 = 15</math></p> <p>⑨ <math>9 + 2 = 11</math></p> <p>⑩ <math>4 + 8 = 12</math></p>
--	--

くりあがりのれんしゅう (1)

①  $2 + 9 = 11$  ②  $3 + 8 = 11$  ③  $3 + 9 = 12$  ④  $4 + 7 = 11$  ⑤  $4 + 8 = 12$  ⑥  $4 + 9 = 13$

⑦  $5 + 6 = 11$  ⑧  $5 + 7 = 12$  ⑨  $5 + 8 = 13$  ⑩  $5 + 9 = 14$  ⑪  $6 + 5 = 11$  ⑫  $6 + 6 = 12$

⑬  $6 + 7 = 13$  ⑭  $6 + 8 = 14$  ⑮  $6 + 9 = 15$  ⑯  $7 + 4 = 11$  ⑰  $7 + 5 = 12$  ⑱  $7 + 6 = 13$

1年 <b>2</b> (4)	たしざん	____ねん ____くみ なまえ
-----------------------	------	----------------------

たしざんを しまししょう。

①  $10 + 30 = 40$

②  $30 + 20 = 50$

③  $50 + 10 = 60$

④  $70 + 20 = 90$

⑤  $40 + 50 = 90$

たしざんを しまししょう。

⑥  $50 + 50 = 100$

⑦  $70 + 30 = 100$

⑧  $20 + 80 = 100$

⑨  $100 + 0 = 100$

⑩  $0 + 100 = 100$

○+□=100の れんしゅう

①  $10 + 90 = 100$    ②  $20 + 80 = 100$    ③  $30 + 70 = 100$    ④  $40 + 60 = 100$

⑤  $50 + 50 = 100$    ⑥  $60 + 40 = 100$    ⑦  $70 + 30 = 100$    ⑧  $80 + 20 = 100$

⑨  $90 + 10 = 100$    ⑩  $100 + 0 = 100$    ⑪  $0 + 100 = 100$

1年 <b>3</b> (2)	ひきざん	__ねん __くみ なまえ
-----------------------	------	------------------

ひきざんをしましょう。

①  $14 - 5$

②  $15 - 6$

③  $11 - 8$

④  $13 - 6$

⑤  $12 - 3$

ひきざんをしましょう。

⑥  $17 - 9$

⑦  $11 - 2$

⑧  $18 - 9$

⑨  $16 - 8$

⑩  $14 - 7$

くり下がりの れんしゅう

①  $11 - 2$       ②  $11 - 3$       ③  $11 - 4$       ④  $11 - 5$       ⑤  $11 - 6$       ⑥  $11 - 7$

⑦  $11 - 8$       ⑧  $11 - 9$       ⑨  $12 - 3$       ⑩  $12 - 4$       ⑪  $12 - 5$       ⑫  $12 - 6$

⑬  $12 - 7$       ⑭  $12 - 8$       ⑮  $12 - 9$       ⑯  $13 - 4$       ⑰  $13 - 5$       ⑱  $13 - 6$

1年 <b>3</b> (5)	ひきざん	___ ねん ___ ぐみ なまえ
-----------------------	------	----------------------

ひきざんを しましょう。

① 23 - 3

② 81 - 1

③ 57 - 7

④ 49 - 9

⑤ 60 - 0

ひきざんを しましょう。

⑥ 29 - 6

⑦ 84 - 3

⑧ 38 - 5

⑨ 77 - 2

⑩ 99 - 7

42 - 2

十のくらい	一のくらい
○○○○	○○

一のくらいから 2を ひくから  
 一のくらいは 2 - 2 = 0  
 こたえは 40

24 - 3

十のくらい	一のくらい
○○	○ ○○○

一のくらいから 3を ひく。  
 一のくらいは 4 - 3 = 1  
 20と1で こたえは 21

おなじくらいの  
 かずどうしで  
 けいさんすると  
 いいね。



1年 <b>3</b> (2)	ひきざん	____ねん ____くみ なまえ
-----------------------	------	----------------------

ひきざんをしましょう。

①  $14 - 5 = 9$

②  $15 - 6 = 9$

③  $11 - 8 = 3$

④  $13 - 6 = 7$

⑤  $12 - 3 = 9$

ひきざんをしましょう。

⑥  $17 - 9 = 8$

⑦  $11 - 2 = 9$

⑧  $18 - 9 = 9$

⑨  $16 - 8 = 8$

⑩  $14 - 7 = 7$

くり下がりの れんしゅう

①  $11 - 2 = 9$    ②  $11 - 3 = 8$    ③  $11 - 4 = 7$    ④  $11 - 5 = 6$    ⑤  $11 - 6 = 5$    ⑥  $11 - 7 = 4$

⑦  $11 - 8 = 3$    ⑧  $11 - 9 = 2$    ⑨  $12 - 3 = 9$    ⑩  $12 - 4 = 8$    ⑪  $12 - 5 = 7$    ⑫  $12 - 6 = 6$

⑬  $12 - 7 = 5$    ⑭  $12 - 8 = 4$    ⑮  $12 - 9 = 3$    ⑯  $13 - 4 = 9$    ⑰  $13 - 5 = 8$    ⑱  $13 - 6 = 7$

1年 <b>3</b> (5)	ひきざん	____ ねん ____ ぐみ なまえ
-----------------------	------	------------------------

<p>ひきざんを しましう。</p> <p>① <math>23 - 3 = 20</math></p> <p>② <math>81 - 1 = 80</math></p> <p>③ <math>57 - 7 = 50</math></p> <p>④ <math>49 - 9 = 40</math></p> <p>⑤ <math>60 - 0 = 60</math></p>	<p>ひきざんを しましう。</p> <p>⑥ <math>29 - 6 = 23</math></p> <p>⑦ <math>84 - 3 = 81</math></p> <p>⑧ <math>38 - 5 = 33</math></p> <p>⑨ <math>77 - 2 = 75</math></p> <p>⑩ <math>99 - 7 = 92</math></p>
--	--

<p>42 - 2</p> <table border="1" style="width: 100%; text-align: center;"> <tr> <td>十のくらい</td> <td>一のくらい</td> </tr> <tr> <td>○○○○</td> <td>○○</td> </tr> </table> <p>一のくらいから 2を ひくから        一のくらいは <math>2 - 2 = 0</math>        こたえは 40</p>	十のくらい	一のくらい	○○○○	○○	<p>24 - 3</p> <table border="1" style="width: 100%; text-align: center;"> <tr> <td>十のくらい</td> <td>一のくらい</td> </tr> <tr> <td>○○</td> <td>○ ○○○</td> </tr> </table> <p>一のくらいから 3を ひく。        一のくらいは <math>4 - 3 = 1</math>        20と1で こたえは 21</p>	十のくらい	一のくらい	○○	○ ○○○
十のくらい	一のくらい								
○○○○	○○								
十のくらい	一のくらい								
○○	○ ○○○								

おなじくらいの  
 かずどうしで  
 けいさんすると  
 いいね。

# 1 わかりやすくあらわそう

1 昼休みの過ごし方を  
わかりやすく  
あらわしましょう。

したことをしゅるいごとに  
せいりして...

昼休みにした ことと  
人数の わかりやすい  
あらわし方を 考えよう。

昼休みにした ことと 人数

<input checked="" type="radio"/>	<input type="radio"/>	<input type="radio"/>	<input type="radio"/>	<input type="radio"/>	<input type="radio"/>	<input type="radio"/>	<input type="radio"/>
<input type="radio"/>	<input checked="" type="radio"/>	<input type="radio"/>	<input type="radio"/>	<input type="radio"/>	<input type="radio"/>	<input type="radio"/>	<input type="radio"/>
<input type="radio"/>	<input type="radio"/>	<input checked="" type="radio"/>	<input type="radio"/>	<input type="radio"/>	<input type="radio"/>	<input type="radio"/>	<input type="radio"/>
<input type="radio"/>	<input type="radio"/>	<input type="radio"/>	<input checked="" type="radio"/>	<input type="radio"/>	<input type="radio"/>	<input type="radio"/>	<input type="radio"/>
<input type="radio"/>	<input type="radio"/>	<input type="radio"/>	<input type="radio"/>	<input checked="" type="radio"/>	<input type="radio"/>	<input type="radio"/>	<input type="radio"/>
<input type="radio"/>	<input type="radio"/>	<input type="radio"/>	<input type="radio"/>	<input type="radio"/>	<input checked="" type="radio"/>	<input type="radio"/>	<input type="radio"/>
<input type="radio"/>	<input type="radio"/>	<input type="radio"/>	<input type="radio"/>	<input type="radio"/>	<input type="radio"/>	<input checked="" type="radio"/>	<input type="radio"/>
<input type="radio"/>	<input type="radio"/>	<input type="radio"/>	<input type="radio"/>	<input type="radio"/>	<input type="radio"/>	<input type="radio"/>	<input checked="" type="radio"/>
<input type="radio"/>	<input type="radio"/>	<input type="radio"/>	<input type="radio"/>	<input type="radio"/>	<input type="radio"/>	<input type="radio"/>	<input type="radio"/>
<input type="radio"/>	<input type="radio"/>	<input type="radio"/>	<input type="radio"/>	<input type="radio"/>	<input type="radio"/>	<input type="radio"/>	<input type="radio"/>
<input type="radio"/>	<input type="radio"/>	<input type="radio"/>	<input type="radio"/>	<input type="radio"/>	<input type="radio"/>	<input type="radio"/>	<input type="radio"/>

前のページのカードに  
1つずつしるしを  
つけながら○をかこう。

- 1 右のグラフに つぎを  
かきましよう。
- 2 読書をした人は 何人ですか。  
**6人**
- 3 グラフの人数を, 下の ひょうに あらわしましょう。

昼休みにした ことと 人数

した こと	ドッジボール	おえかき	なわとび	読書	おにごっこ
人数	7	2	5	6	4


何を あらわしたいかを きめて, グラフや ひょうに すると いいね。

あみ グラフや ひょうを見て, 昼休みにした ことを  
もっとくわしくしりたいね。

# 5 1. グラフと ひょう

◆ すきな きゅうしよくを しらべました。

(1-10) (100)



① すきな きゅうしよくの  
数を, ○を つかって 右の  
グラフに あらわしましょう。

② シチューが すきな 人は  
何人ですか。  
( 3人 )

③ グラフの 人数を, 下の ひょうに あらわしましょう。

すきな きゅうしよくと 人数

<input type="radio"/>	<input checked="" type="radio"/>	<input type="radio"/>	<input type="radio"/>	<input type="radio"/>	<input type="radio"/>	<input type="radio"/>	<input type="radio"/>
<input type="radio"/>	<input type="radio"/>	<input checked="" type="radio"/>	<input type="radio"/>	<input type="radio"/>	<input type="radio"/>	<input type="radio"/>	<input type="radio"/>
<input type="radio"/>	<input type="radio"/>	<input type="radio"/>	<input checked="" type="radio"/>	<input type="radio"/>	<input type="radio"/>	<input type="radio"/>	<input type="radio"/>
<input type="radio"/>	<input type="radio"/>	<input type="radio"/>	<input type="radio"/>	<input checked="" type="radio"/>	<input type="radio"/>	<input type="radio"/>	<input type="radio"/>
<input type="radio"/>	<input type="radio"/>	<input type="radio"/>	<input type="radio"/>	<input type="radio"/>	<input checked="" type="radio"/>	<input type="radio"/>	<input type="radio"/>
<input type="radio"/>	<input type="radio"/>	<input type="radio"/>	<input type="radio"/>	<input type="radio"/>	<input type="radio"/>	<input checked="" type="radio"/>	<input type="radio"/>
<input type="radio"/>	<input type="radio"/>	<input type="radio"/>	<input type="radio"/>	<input type="radio"/>	<input type="radio"/>	<input type="radio"/>	<input checked="" type="radio"/>
<input type="radio"/>	<input type="radio"/>	<input type="radio"/>	<input type="radio"/>	<input type="radio"/>	<input type="radio"/>	<input type="radio"/>	<input type="radio"/>
<input type="radio"/>	<input type="radio"/>	<input type="radio"/>	<input type="radio"/>	<input type="radio"/>	<input type="radio"/>	<input type="radio"/>	<input type="radio"/>
<input type="radio"/>	<input type="radio"/>	<input type="radio"/>	<input type="radio"/>	<input type="radio"/>	<input type="radio"/>	<input type="radio"/>	<input type="radio"/>
<input type="radio"/>	<input type="radio"/>	<input type="radio"/>	<input type="radio"/>	<input type="radio"/>	<input type="radio"/>	<input type="radio"/>	<input type="radio"/>

すきな きゅうしよくと 人数

きゅうしよく	やきそば	カレーライス	ラーメン	シチュー	ハンバーグ
人数	6	7	2	3	6